

# Thema "Arbeit mit Tabellen" –Planung einer Klassenfahrt

Eine Schulklasse aus Nordhausen plant eine Klassenfahrt nach München. Als Schüler dieser Klasse hast Du die Aufgabe herauszufinden, ob die Möglichkeit besteht, mit der Bahn nach München zu fahren.

Im Internet hast Du den folgenden Fahrplan gefunden:

	Bahnhof/Haltestelle	Zeit	Dauer	Umst.	Produkte	Preis
1.	<a href="#">Nordhausen</a> <a href="#">München Hbf</a>	ab 06:21 an 11:41		1	RE, ICE	102,00 EUR
2.	<a href="#">Nordhausen</a> <a href="#">München Hbf</a>	ab 06:32 an 12:39		2	RE, ICE	83,00 EUR
3.	<a href="#">Nordhausen</a> <a href="#">München Hbf</a>	ab 06:38 an 13:04		1	RB, ICE	103,00 EUR
4.	<a href="#">Nordhausen</a> <a href="#">München Hbf</a>	ab 06:52 an 12:39		3	RB, RE, ICE	86,00 EUR
5.	<a href="#">Nordhausen</a> <a href="#">München Hbf</a>	ab 06:52 an 13:04		2	RB, EIB, ICE	103,00 EUR
6.	<a href="#">Nordhausen</a> <a href="#">München Hbf</a>	ab 08:21 an 14:04		2	RE, ICE	102,00 EUR
7.	<a href="#">Nordhausen</a> <a href="#">München Hbf</a>	ab 08:30 an 14:39		2	RE, ICE	83,00 EUR
8.	<a href="#">Nordhausen</a> <a href="#">München Hbf</a>	ab 08:38 an 14:43		1	RB, ICE	103,00 EUR
9.	<a href="#">Nordhausen</a> <a href="#">München Hbf</a>	ab 08:52 an 14:39		3	RB, RE, ICE	86,00 EUR
10.	<a href="#">Nordhausen</a> <a href="#">München Hbf</a>	ab 08:52 an 14:43		2	RB, RE, ICE	103,00 EUR

1. Die Spalte „Dauer“ ist leer. Was bedeutet „Dauer“? Fülle die Spalte aus.

-----

2. Schau Dir die erste Zeile der Tabelle an. Was ist mit „Produkte“ gemeint?

- 
- 
- 
- 



# Thema "Arbeit mit Tabellen" –Planung einer Klassenfahrt

---

3. Fahren Züge direkt von Nordhausen nach München?  
(überlege, in welcher Spalte Du das erkennen kannst)

- 
- 
- 
- 

4. Ihr wollt nicht vor 8.00 Uhr in Nordhausen losfahren und nicht nach 14.00 Uhr in München ankommen. Welche Verbindungen kommen in Frage?

- 
- 
- 
- 

5. Es gibt 2 Verbindungen mit der Abfahrtszeit 6.52 Uhr. Worin unterscheiden sie sich?





-----  
-----

6. Welche der beiden Verbindungen ist die günstigere? Begründe Deine Entscheidung.

-----  
-----  
-----

# Thema "Arbeit mit Tabellen" – Planung einer Klassenfahrt

7. Du möchtest Dich nun noch über das Umsteigen informieren. Dazu schaust Du Dir die Verbindung Nr. 4 genauer an:

Bahnhof/Haltestelle	Datum	Zeit	Gleis	Produkte	Bemerkungen
Nordhausen		ab 06:52	2	 <a href="#">RB</a> <a href="#">16626</a>	RegionalBahn Fahrradmitnahme begrenzt möglich
Werther		ab 06:57			
Wolkramshausen		ab 07:01			
Nohra(Wipper)		ab 07:04			
Wipperdorf		ab 07:07			
Bleicherode Ost		ab 07:11			
Gebra(Hainleite)		ab 07:15			
Sollstedt		ab 07:19			
Bernterode		ab 07:23			
Niederorschel		ab 07:28			
Hausen(Eichsfeld)		ab 07:31			
Leinefelde	Mi, 07.03.07	an 07:36	6		
Leinefelde	Mi, 07.03.07	ab 07:42	1	 <a href="#">RE</a> <a href="#">3655</a> <a href="#">RE</a> <a href="#">3675</a>	RegionalExpress Fahrradmitnahme begrenzt möglich
Mühlhausen(Thür)		ab 08:00			
Bad Langensalza		ab 08:10			
Gotha		ab 08:28			
Neudietendorf	Mi, 07.03.07	an 08:37	1		
Neudietendorf	Mi, 07.03.07	ab 08:52	3	 <a href="#">RE</a> <a href="#">16133</a>	RegionalExpress Fahrradmitnahme begrenzt möglich
Arnstadt Hbf		ab 09:00			
Niederwillingen		ab 09:09			
Stadtilm		ab 09:13			
Rottenbach		ab 09:25			
Bad Blankenburg(Thüringerw)		ab 09:32			
Saalfeld(Saale)	Mi, 07.03.07	an 09:40	1		
Saalfeld(Saale)	Mi, 07.03.07	ab 09:46	4	 <a href="#">ICE</a> <a href="#">1505</a>	InterCityExpress BordRestaurant
Bamberg		ab 10:49			
Nürnberg Hbf		ab 11:28			
Ingolstadt Hbf		ab 12:01			
München Hbf	Mi, 07.03.07	an 12:39	23		

# Thema "Arbeit mit Tabellen" –Planung einer Klassenfahrt

---

zu 7. Woran erkennst Du auf den ersten Blick, wo die Umsteigebahnhöfe sind?

- 
- 
- 
- 

8. Schau Dir alle Informationen zum Umsteigen an. Was könnte ein Problem werden?

- 
- 
- 
-